

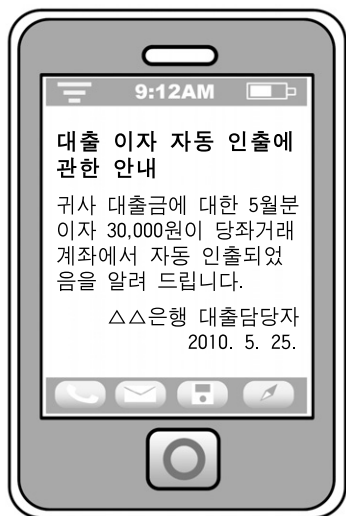
6. 다음은 ○○(주)의 자본에 관한 거래이다. 이를 회계 처리한 결과 나타날 자본의 변동으로 옳은 것은? [3점]

2월 5일 주식발행초과금 ₩5,000,000을 자본금에 전입하고
1주당 액면 ₩5,000의 주식 1,000주를 발행하다.
3월 28일 자기주식 1,000주(취득원가 1주당 ₩7,000)를 1주당
₩8,000에 처분하고 대금은 당좌예입하다.

※ 기타포괄손익누계액은 기업회계기준서 제21호(2006. 12. 31. 이후부터 시행)에 의해 추가되었다.

- ① 자본금의 감소
- ② 자본총계의 감소
- ③ 이익잉여금의 증가
- ④ 자본잉여금의 감소
- ⑤ 기타포괄손익누계액의 증가

7. 그림은 개인기업인 ○○상회 사장의 휴대폰 문자 메시지이다. 이를 회계 처리할 때 발생하는 비용 계정의 손익계산서 항목 분류로 옳은 것은?



- ① 매출원가 ② 영업이익 ③ 매출총이익
- ④ 영업외비용 ⑤ 판매비와관리비

8. 다음은 개인기업인 ○○상회의 잘못된 결산 대체 분개이다. 바르게 수정한 후 계산된 당기순이익 금액으로 옳은 것은? (단, 자료에 나타난 오류 외에는 고려하지 않는다.) [3점]

(차변) 매출	450,000	(대변) 손익	500,000
		상품권선수금	50,000
(차변) 손익	300,000	(대변) 매입	200,000
		개발비	70,000
		수선비	20,000
		여비교통비	10,000

- ① ₩150,000 ② ₩200,000 ③ ₩220,000
- ④ ₩270,000 ⑤ ₩300,000

9. 다음은 ○○(주)의 잔액시산표 일부이다. 이를 근거로 작성된 대차대조표 계정과목의 금액으로 옳은 것은? [3점]

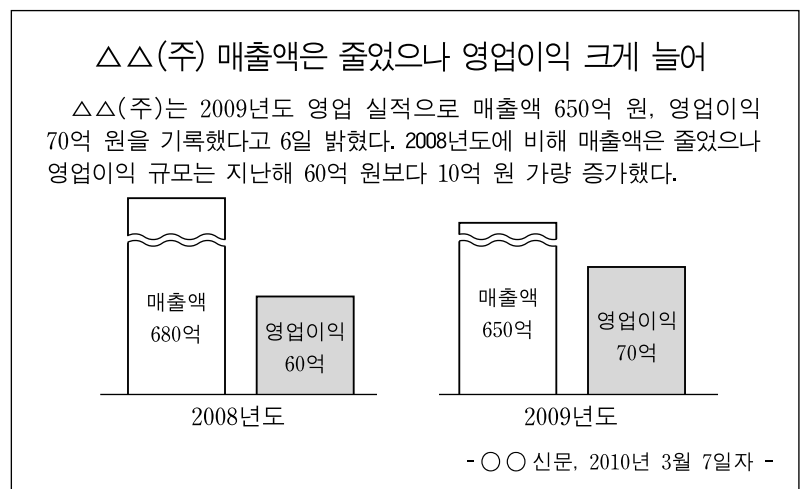
잔액시산표(수정 후)

○○(주)		2009년 12월 31일		(단위: 원)
차	변	원면	계정과목	대 변
1,100,000			현 금	
300,000			당 좌 예 금	
1,000,000			외 상 매 출 금	
800,000			받 을 어 음	
400,000	생		이 월 상 품	
50,000			특 허 권	
100,000			상 표 권	
	락		외 상 매 입 금	200,000
			지 급 어 음	700,000
			장 기 차 입 금	500,000
			자 본 금	2,000,000
			주 식 발 행 초 과 금	300,000

※ 현금및현금성자산은 기업회계기준서 제21호(2006. 12. 31. 이후부터 시행) 시행 전에는 현금및현금성자산으로 표기하였고, 대차대조표는 기업회계기준 수정목록 09-2호(2009. 2. 27.)에서 재무상태표로 용어수정되었다.

- ① 자본금은 ₩2,300,000이다.
- ② 매입채무는 ₩200,000이다.
- ③ 매출채권은 ₩800,000이다.
- ④ 산업재산권은 ₩150,000이다.
- ⑤ 현금및현금성자산은 ₩1,100,000이다.

10. 다음은 △△(주)의 경영성과와 관련된 기사이다. 2008년도 대비 2009년도에 나타난 결과의 요인이 될 수 있는 것을 <보기>에서 고른 것은?



- <보기>
- ㄱ. 기부 금액의 감소
 - ㄴ. 감가상각 금액의 감소
 - ㄷ. 광고 선전 금액의 감소
 - ㄹ. 투자 자산 처분 손실 금액의 감소

- ① ㄱ, ㄴ ② ㄱ, ㄷ ③ ㄴ, ㄷ
- ④ ㄴ, ㄹ ⑤ ㄷ, ㄹ

11. 다음은 ○○(주)의 [거래]와 [분개]의 일부를 나타낸 것이다. 손익계산서 작성 시 (가), (나)의 계정과목에 대한 설명으로 옳은 것을 <보기>에서 고른 것은? [3점]

[거래]
 8월 1일 상품 ₩400,000을 외상으로 매출하고 당점 부담 운임 ₩3,000은 현금으로 지급하다.
 9월 4일 소유하고 있는 단기매매증권 ₩100,000(장부금액)을 ₩90,000에 처분하고 대금은 현금으로 받다.

[분개]
 8월 1일 (차변) 외상매출금 400,000 (대변) 매출 400,000
 (가) 3,000 현금 3,000
 9월 4일 (차변) 현금 90,000 (대변) 단기매매증권 100,000
 (나) 10,000

※ 단기매매증권은 기업회계기준서 제21호(2006. 12. 31. 이후부터 시행)에서 단기투자자산으로 통합하여 표기한다.

— < 보 기 > —

- ㄱ. (가)는 판매비와관리비에 속한다.
- ㄴ. (가)는 매출액에서 차감하여 표시한다.
- ㄷ. (나)는 영업외비용에 속한다.
- ㄹ. (가)와 (나)는 영업이익에서 차감한다.

- ① ㄱ, ㄴ ② ㄱ, ㄷ ③ ㄴ, ㄷ
- ④ ㄴ, ㄹ ⑤ ㄷ, ㄹ

12. 다음은 총계정원장의 일부와 [상품 관련 자료]이다. 이를 근거로 결산 정리 분개 후 계산된 매출원가로 옳은 것은? [3점]

이월상품							
2009년	적요	분면	금액	2009년	적요	분면	금액
1	1	전기이월	70,000				
		생략				생략	

매입							
2009년	적요	분면	금액	2009년	적요	분면	금액
5	3	제 좌	250,000	5	7	외상매입금	30,000
9	13	외상매입금	300,000				
11	10	현 금	200,000			생략	

- [상품 관련 자료]**
- 상품 매매는 3분법으로 처리한다.
 - 기말상품재고액은 ₩80,000이며, 실지재고액과 장부재고액은 같다.

- ① ₩570,000 ② ₩600,000 ③ ₩710,000
- ④ ₩720,000 ⑤ ₩750,000

13. 다음은 ○○(주)의 업무 일지 일부와 [결산 정리 사항]이다. 이를 회계 처리한 후 계산된 대여금에 대한 당기분 이자수익의 금액으로 옳은 것은? (단, 결산은 연 1회이다.)

업 무 일 지				
작성일	2009년 10월 31일	작성자	나경리	비고
업무 내용	1. 이자수익 입금 확인 △△상회에 대한 대여금 이자 3개월분 30,000원이 보통예금에 입금됨을 확인함.			대여일: 2009. 8. 1.

[결산 정리 사항]
 12월 31일 이자수익 미수분 ₩20,000을 계상하다.

- ① ₩10,000 ② ₩20,000 ③ ₩30,000
- ④ ₩40,000 ⑤ ₩50,000

14. 다음은 개인기업인 ○○상회의 결산 시 총계정원장 일부이다. 약식 계정에 나타난 금액이 재무상태와 경영성과에 미치는 영향으로 옳은 것은? [3점]

급여		임대료	
현 금	50,000	선수임대료	10,000
미지급급여	20,000	현 금	30,000

손익	
매 입	70,000
매 출	150,000

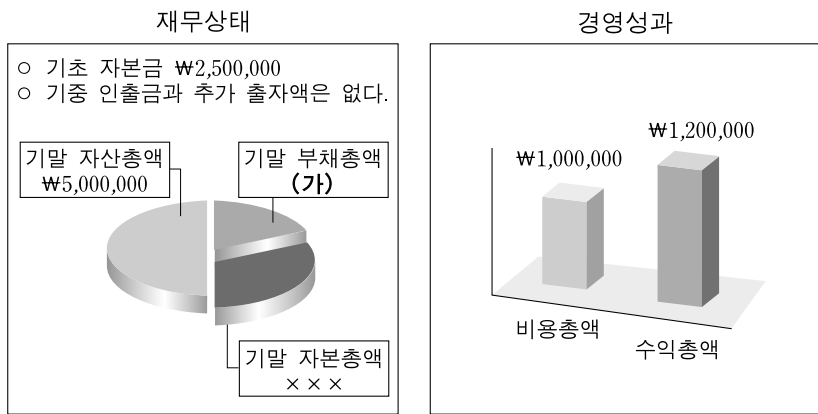
- ① 손익 계정의 매입 ₩70,000은 자본금을 증가시킨다.
- ② 급여 계정의 미지급급여 ₩20,000은 부채를 감소시킨다.
- ③ 손익 계정의 매출 ₩150,000은 당기순이익을 감소시킨다.
- ④ 임대료 계정의 선수임대료 ₩10,000은 자산을 증가시킨다.
- ⑤ 급여 계정의 차변 합계 ₩70,000은 당기순이익을 감소시킨다.

15. 다음은 ○○(주)가 운영하고 있는 웹 사이트의 Q&A 게시판이다. ○○(주)가 답변 내용을 회계 처리할 때 차변 계정과목으로 옳은 것은? (단, 상품 매매는 3분법으로 처리하고, 반송비는 고려하지 않는다.)

Q&A 게시판
<p><질문> 파손품이 있어요!</p> <p>안녕하세요? 주문한 상품 50개를 받아 보니 상품 2개 2만 원어치가 파손되어 택배 업체를 통해 반송하였습니다.</p>
<p><답변> 반품 처리하였습니다.</p> <p>상품이 파손되어 죄송합니다. 반송하신 상품은 반품 처리하였습니다.</p>

- ① 매입 ② 매출 ③ 이월상품
- ④ 외상매입금 ⑤ 외상매출금

16. 그림은 개인기업인 ○○상회의 제3기 재무상태와 경영성과를 나타낸 것이다. (가)의 금액으로 옳은 것은? [3점]



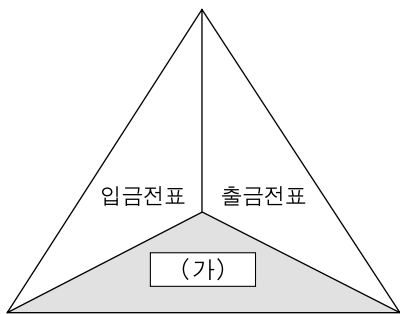
- ① ₩1,800,000 ② ₩2,000,000 ③ ₩2,300,000
- ④ ₩2,500,000 ⑤ ₩2,800,000

17. 그림의 대화 내용에 나타난 거래와 동일한 거래 요소의 결합 관계를 나타내는 거래로 옳은 것은? [3점]



- ① 은행으로부터 현금 ₩200,000을 차입하다.
- ② 종업원에게 ₩300,000을 현금으로 빌려 주다.
- ③ 상품 중개 수수료 ₩100,000을 현금으로 받다.
- ④ 건물 ₩5,000,000을 출자하여 영업을 개시하다.
- ⑤ 외상매입금 ₩500,000을 약속어음 발행하여 지급하다.

18. 그림은 3전표제의 전표 종류를 나타낸 것이다. (가)의 전표에 기입해야 할 거래로 옳은 것은?



- ① 받을어음 ₩50,000을 현금으로 회수하다.
- ② 자동차세 ₩30,000을 현금으로 납부하다.
- ③ 종업원 식대 ₩100,000을 현금으로 지급하다.
- ④ 상품 ₩50,000을 매출하고 대금은 현금으로 받다.
- ⑤ 외상매입금 ₩4,000,000을 당좌수표 발행하여 지급하다.

19. 그림은 부채의 회계 처리에 대한 수업 장면이다. 학생들이 대답한 거래의 대변 계정과목으로 옳은 것은?



- ① 미결산 ② 미수금 ③ 선금금
- ④ 지급어음 ⑤ 단기차입금

20. 다음은 ○○(주)의 분개장 일부이다. (가)~(다)의 계정과목에 대한 설명으로 옳은 것만을 <보기>에서 있는 대로 고른 것은? [3점]

분 개 장

○○(주)		(단위: 원)			
2010년	적	요	원면	차변	대변
5 28	(현 금)	(가)		500,000	500,000
	△△상회, 상품 매출 계약, 계약금 현금 수취		생 략		
	제 좌	(나)		2,900,000	
	(당 좌 예 금)	(다)		100,000	
					3,000,000
		3년 만기 사채 할인 발행, 대금은 당좌 예입			

* 대차대조표는 기업회계기준 수정목록 09-2호(2009. 2. 27.)에서 재무상태표로 용어수정되었다.

< 보 기 >

ㄱ. (가)는 대차대조표의 유동부채에 속한다.
 ㄴ. (나)는 대차대조표의 유동자산에 속한다.
 ㄷ. (다)의 장부금액은 ₩3,000,000이다.

- ① ㄱ ② ㄴ ③ ㄱ, ㄷ
- ④ ㄴ, ㄷ ⑤ ㄱ, ㄴ, ㄷ

* 확인 사항
 ○ 답안지의 해당란에 필요한 내용을 정확히 기입(표기)했는지 확인 하시오.