


제 4 교시

직업탐구 영역 (상업경제)

성명 수험 번호

1. 다음 뉴스에 나타난 보험에 대한 설명으로 옳은 것을 <보기>에서 고른 것은?



<보기>

ㄱ. 사회 보험에 해당된다.
 ㄴ. 소득 재분배 기능을 수행한다.
 ㄷ. 보험료는 근로자가 전액 부담한다.
 ㄹ. 개인의 필요에 의해 임의로 가입이 가능하다.

- ① ㄱ, ㄴ ② ㄱ, ㄷ ③ ㄴ, ㄷ
 ④ ㄴ, ㄹ ⑤ ㄷ, ㄹ

2. 다음은 촉진 관련 상담 사례이다. (가)에 들어갈 내용으로 적절한 것을 <보기>에서 고른 것은?

질문 : 저는 아파트 단지 내 상가에서 조그만 반찬 가게를 운영하고 있습니다. 최근 경기 침체로 인해 외식이 많이 줄었다고 들었습니다. 이번 기회에 단기간 내 매출액을 올릴 수 있는 방법이 없을까요?

답변 : 다음과 같은 촉진 방법이 있습니다.

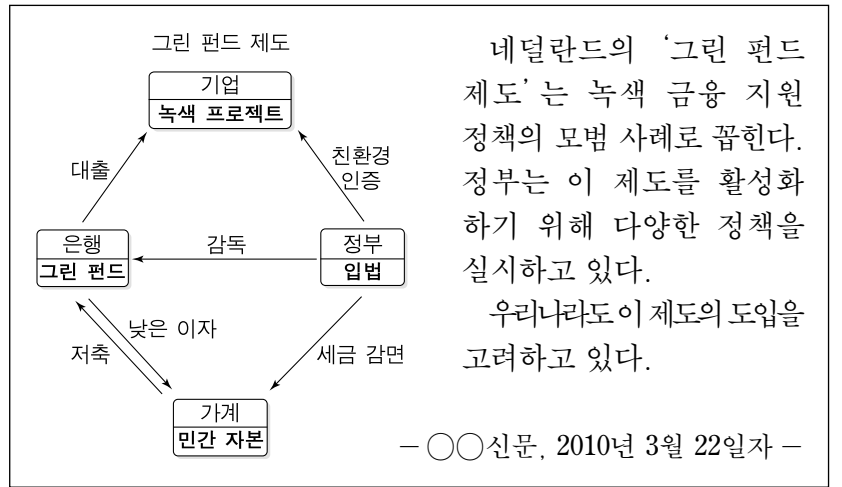
(가)

<보기>

ㄱ. 시식 행사를 실시한다.
 ㄴ. 가격 할인 행사를 한다.
 ㄷ. 전화번호부에 점포의 전화번호를 게재한다.
 ㄹ. 봉사 활동을 통해 주민과 호의적인 관계를 형성한다.

- ① ㄱ, ㄴ ② ㄱ, ㄷ ③ ㄴ, ㄷ
 ④ ㄴ, ㄹ ⑤ ㄷ, ㄹ

3. 다음은 그린 펀드 제도에 관한 기사이다. 이 제도를 도입했을 때 나타날 수 있는 현상으로 적절한 것을 <보기>에서 고른 것은?



<보기>

ㄱ. 정부는 환경오염 기준을 완화할 것이다.
 ㄴ. 기업은 친환경 분야의 사업을 늘려나갈 것이다.
 ㄷ. 기업은 직접 금융 방식으로 자금을 조달할 수 있을 것이다.
 ㄹ. 친환경 인증 기업은 낮은 금리로 자금을 조달할 수 있을 것이다.

- ① ㄱ, ㄴ ② ㄱ, ㄷ ③ ㄴ, ㄷ
 ④ ㄴ, ㄹ ⑤ ㄷ, ㄹ

4. 다음 설문 결과가 반영된 자본 증권에 투자하였을 때, 이 자본 증권을 통해 투자자가 얻을 수 있는 이점으로 옳은 것은? [3점]

설문지

1. 발행 회사의 신용도에 따라 투자 여부를 결정합니까?
 예 아니오

2. 배당 수익을 선호합니까?
 예 아니오

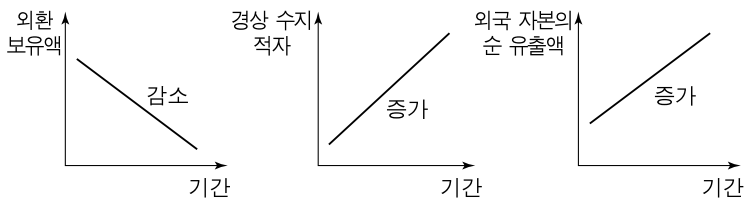
3. 만기일을 고려합니까?
 예 아니오

- ① 무상 증자 시 주식을 받을 수 있다.
 ② 경영 성과에 따라 이자를 더 받을 수 있다.
 ③ 예금자보호법에 의해 원금을 보호받을 수 있다.
 ④ 주주 총회에 참석하여 의결권을 행사할 수 있다.
 ⑤ 만기 시 원금을 받을 수 있으므로 안정성을 확보할 수 있다.

5. 다음에 나타난 전자 상거래 유형 (가), (나)에 대한 설명으로 옳은 것은?

전자 상거래 유형에는 가정에서 사용하던 물건을 서로 교환하는 (가) 유형이 있고, 집에서 주민등록등본 등을 편리하게 발급받을 수 있는 (나) 유형도 있다.

- ① (가)는 인트라넷을 이용한다.
 - ② (가)는 EDI 시스템을 사용한다.
 - ③ (나)는 전자 상거래 유형 중 거래액 규모가 가장 크다.
 - ④ (나)는 LAN망을 통해 개인 간 정보를 교환하는 유형이다.
 - ⑤ (가)는 C2C, (나)는 G2C 유형에 해당한다.
6. 그래프와 같은 경제 상황에 따라 환율이 지속적으로 변할 때, 기업 활동으로 적절한 것을 <보기>에서 고른 것은? (단, 환율 이외의 요인은 고려하지 않는다.) [3점]



<보기>

- ㄱ. 수출 대금을 받으면 즉시 환전한다.
- ㄴ. 수입 대금 결제를 위한 환전을 늦춘다.
- ㄷ. 현재 환율로 한 달 후에 달러를 매수하는 계약을 체결한다.
- ㄹ. 외화로 차입한 금액에 대해 만기일 전에 환전하여 상환한다.

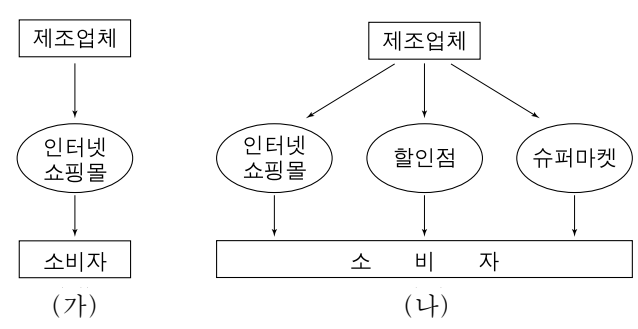
- ① ㄱ, ㄴ ② ㄱ, ㄷ ③ ㄴ, ㄷ
 - ④ ㄴ, ㄹ ⑤ ㄷ, ㄹ
7. 다음은 구매 금액대별 지급 수단의 사용률을 나타낸 자료이다. 이를 통해 알 수 있는 내용으로 옳은 것은?

(단위 : %)

지급 수단 \ 금액		금액		
		1만 원 미만	1만 원 ~ 10만 원	10만 원 초과
현금	금	50.4	24.6	15.7
자기앞 수표		0.5	1.9	5.2
직불카드		11.1	12.8	9.8
신용카드		20.3	36.6	44.4

- ① 1만 원 미만에서는 전자식 지급 수단 사용률이 가장 낮다.
- ② 1만 원 미만에서는 신용을 기반으로 한 지급 수단 사용률이 가장 높다.
- ③ 1만 원 ~ 10만 원에서는 실명보다 익명의 지급 수단 사용률이 높다.
- ④ 10만 원 초과에서는 상환급보다 후급 형태의 지급 수단 사용률이 높다.
- ⑤ 10만 원 초과에서는 예금을 기반으로 한 지급 수단 사용률이 가장 높다.

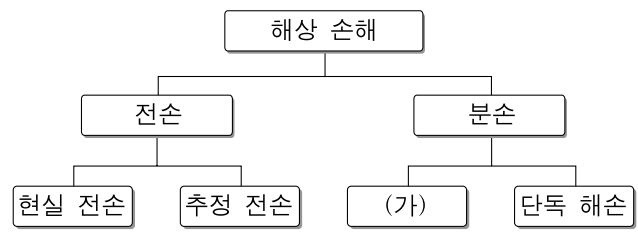
8. 그림은 화장품 제조업체인 ○○(주)의 유통 경로를 나타낸 것이다. (가)와 비교해 볼 때, (나)에서 제조업체가 기대할 수 있는 효과로 적절한 것을 <보기>에서 고른 것은? [3점]



<보기>

- ㄱ. 유통 경로 관리가 쉬워질 것이다.
- ㄴ. 시장에서 상품 노출을 높일 수 있을 것이다.
- ㄷ. 고급 브랜드 이미지를 강화할 수 있을 것이다.
- ㄹ. 유통 경로별 제품 차별화 전략을 수행할 수 있을 것이다.

- ① ㄱ, ㄴ ② ㄱ, ㄷ ③ ㄴ, ㄷ
 - ④ ㄴ, ㄹ ⑤ ㄷ, ㄹ
9. 그림은 해상 손해를 전손과 분손에 따라 분류한 것이다. (가)에 해당하는 사례로 옳은 것은?



- ① 선박이 행방불명되어 화물 전체를 잃은 경우
- ② 화물 전체가 파손되어 경제적 가치를 모두 잃은 경우
- ③ 선박 이상으로 인한 화재로 화물에 손해가 발생한 경우
- ④ 화물 전체의 위험을 피하기 위해 화물 일부를 바다에 버린 경우
- ⑤ 화물 전체가 파손되어 원상 회복에 드는 비용이 화물 가액을 초과한 경우

10. 다음은 유가증권을 경제적 성격에 따라 분류 표시한 것이다. (가)~(다)에 해당하는 설명으로 옳은 것은?

경제적 성격 \ 유가증권	유가증권		
	(가)	(나)	(다)
지급 수단	○		
투자 수익			○
물품 위탁		○	

- ① (가)는 자본 조달을 위해 발행하는 증권이다.
- ② (나)에는 운송 중인 화물을 대표하는 증권이 속한다.
- ③ (다)는 상거래에서 화폐 대신 사용하는 증권이다.
- ④ (가)에는 주식, (나)에는 어음이 속한다.
- ⑤ (나)는 매매가 가능하고, (다)는 가능하지 않다.

11. 다음 통화 신용 정책에 따라 나타날 수 있는 경제 현상으로 적절한 것을 <보기>에서 고른 것은? (단, 금리 이외의 요인은 고려하지 않는다.) [3점]

금융통화위원회는 한국은행 기준 금리를 현재의 2.50%에서 2.00%로 하향 조정하기로 함.

- <보기> —
- ㄱ. 물가가 하락할 것이다.
 - ㄴ. 저축이 증가할 것이다.
 - ㄷ. 기업의 대출 수요가 늘어날 것이다.
 - ㄹ. 시중에 통화 유동성이 증가할 것이다.

- ① ㄱ, ㄴ ② ㄱ, ㄷ ③ ㄴ, ㄷ
- ④ ㄴ, ㄹ ⑤ ㄷ, ㄹ

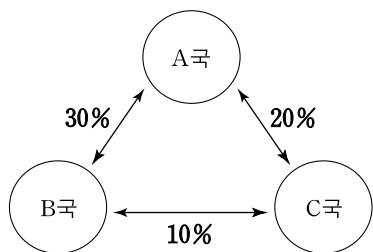
12. 다음은 해외 수출 형태에 대한 기사이다. (가)에 대한 설명으로 옳은 것을 <보기>에서 고른 것은? [3점]

△△전선(주)는 필리핀 교통통신부의 전철 요금 통합 시스템 구축 사업을 (가) (으)로 수주하였다.
 (가) (이)란 통합 솔루션을 구축한 공급사가 운영까지 담당하여 투자 수익을 회수한 후 해당 솔루션을 양도하는 사업 형태이다.
 —○○신문, 2010년 4월 5일자—

- <보기> —
- ㄱ. 플랜트 수출 방식의 한 형태이다.
 - ㄴ. OEM 방식으로 수출하는 전략이다.
 - ㄷ. 시스템 구축 사업비는 △△전선(주)에서 부담한다.
 - ㄹ. 해외의 자원 조달 및 수출 시장 확보를 목적으로 한다.

- ① ㄱ, ㄴ ② ㄱ, ㄷ ③ ㄴ, ㄷ
- ④ ㄴ, ㄹ ⑤ ㄷ, ㄹ

13. 그림은 A~C국 간의 관세율을 나타낸 것이다. A국과 B국 간에 관세 동맹을 체결할 경우 나타날 수 있는 경제 현상으로 적절한 것만을 <보기>에서 있는 대로 고른 것은? [3점]



- <보기> —
- ㄱ. A국과 B국 간에는 관세율이 낮아질 것이다.
 - ㄴ. A국과 B국 간에는 생산 요소의 이동이 자유로워질 것이다.
 - ㄷ. A국과 B국은 C국에 대해 체결 전의 관세율을 적용할 것이다.

- ① ㄱ ② ㄴ ③ ㄱ, ㄷ
- ④ ㄴ, ㄷ ⑤ ㄱ, ㄴ, ㄷ

14. 다음은 ○○(주)의 물류 혁신 추진 방안이다. 이를 통해 기대할 수 있는 효과로 적절한 것을 <보기>에서 고른 것은?

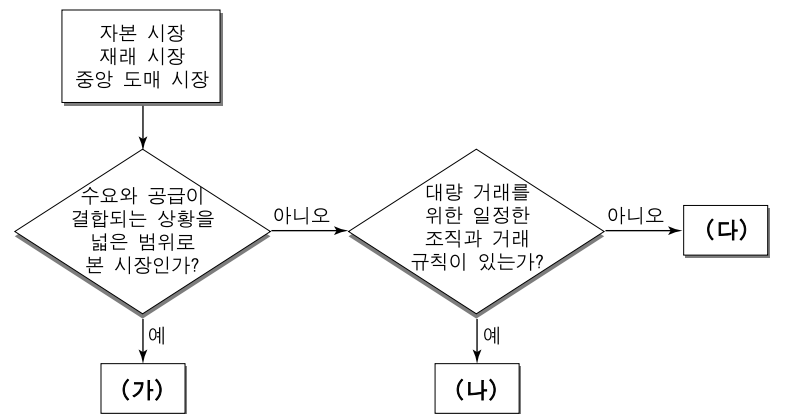
물류 혁신 추진 방안

1. 추진 배경
100여 개의 산만한 재래식 창고, 일일 처리 물량의 한계, 비표준화된 물류 기기 등 창고 운영 및 재고 관리의 비효율성으로 물류비 부담 가중
2. 추진 내용
 - 창고 기능을 집약한 물류 센터 3개를 설립하고, 창고 수를 대폭 축소
 - 표준화된 물류 기기, 재고 관리 시스템 도입

- <보기> —
- ㄱ. 적정 재고를 유지할 수 있다.
 - ㄴ. 하역의 효율성을 높여 물류비를 줄일 수 있다.
 - ㄷ. 거래처의 판매 동향을 실시간으로 파악할 수 있다.
 - ㄹ. 소량 주문 상품을 물류 센터에서 개별 운송하여 물류비를 절감할 수 있다.

- ① ㄱ, ㄴ ② ㄱ, ㄷ ③ ㄴ, ㄷ
- ④ ㄴ, ㄹ ⑤ ㄷ, ㄹ

15. 다음은 시장을 분류한 것이다. (가)~(다)에 해당하는 시장에 대한 설명으로 옳은 것을 <보기>에서 고른 것은? [3점]

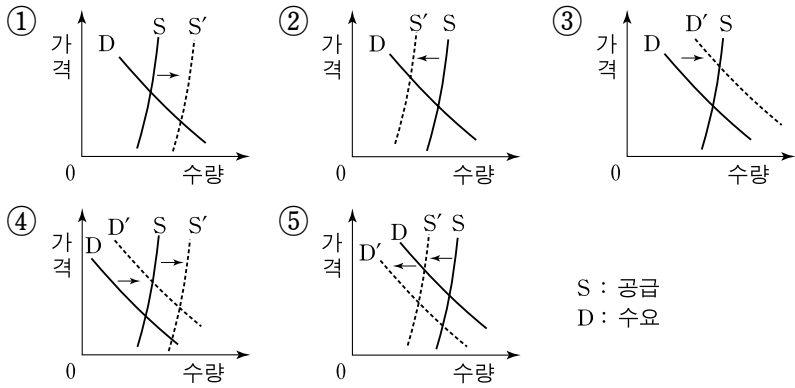


- <보기> —
- ㄱ. (가)는 추상적 시장에 속한다.
 - ㄴ. (나)는 주로 중계 기능을 담당한다.
 - ㄷ. (다)에서는 선물 매매 방식으로 거래한다.
 - ㄹ. (나)에서는 경매매, (다)에서는 경매 방식으로 거래한다.

- ① ㄱ, ㄴ ② ㄱ, ㄷ ③ ㄴ, ㄷ
- ④ ㄴ, ㄹ ⑤ ㄷ, ㄹ

16. 다음 글에 나타난 종이 가격의 변화를 그래프로 표시한 것으로 적절한 것은?

한때 진나라 낙양의 상류 계급 사람들 간에는 『삼도부』라는 책이 인기가 있었다. 그 당시에는 읽고 싶은 책이 있으면 아랫사람을 시켜 종이에 베껴 써야 했다. 하지만 종이의 공급량을 늘릴 수가 없어서 상류 계급 사람들은 앞 다투어 종이부터 사려고 하였다. 그런 까닭에 종이 값이 오르게 되었고 '낙양지가귀(洛陽紙價貴)'라는 말이 생겼다.

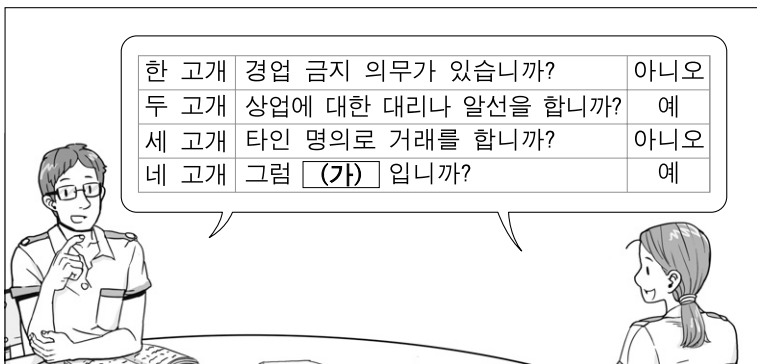


17. 다음은 창고 기능을 설명한 것이다. (가)에 들어갈 내용으로 가장 적절한 것은?

창고는 상품을 보관하고 있다가 소비자가 원하는 시기에 공급해 줄 수 있다. 이는 창고가 특정 계절에만 생산되는 상품을 소비자가 연중 구매할 수 있게 해주는 (가) 불일치 조절 기능을 가지고 있기 때문이다.

- ① 가격 ② 수량 ③ 시간
- ④ 장소 ⑤ 품질

18. 다음은 상업 주체에 관한 스무고개 놀이 장면이다. (가)에 해당하는 상업 주체로 옳은 것은? [3점]

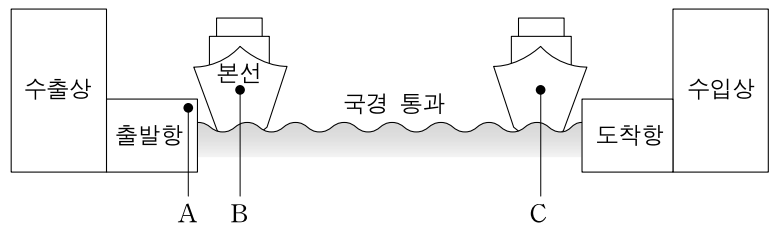


- ① 대리상 ② 중개상 ③ 자영 상인
- ④ 상업 사용자 ⑤ 위탁 매매인

19. 다음은 인코텀즈 2000 수출 가격 조건에 대한 설명이다.

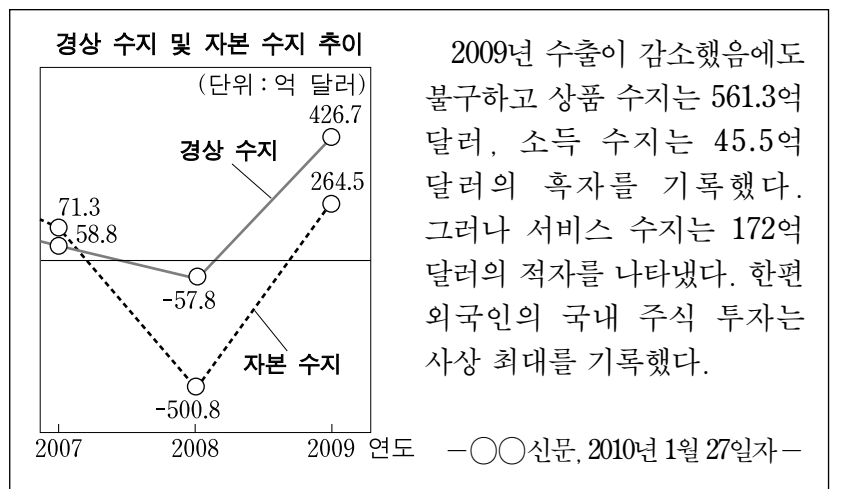
가격 조건	특 징	공통점
(가)	○ 수출상이 본선 적재비를 부담한다. ○ 수입상이 해상 운송 계약을 체결한다.	수출상이 수출 통관을 한다.
(나)	○ 수출상이 해상 운송 계약을 체결한다. ○ 해상 보험의 계약자와 피보험자가 다르다.	

위 (가)에서 (나)로 가격 조건을 변경 시, 수출상의 위험 부담 분기점과 비용 부담 분기점의 변동 상황을 그림의 A~C에서 고른 것은? (단, 복합 운송 가격 조건은 고려하지 않는다.) [3점]



	위험 부담 분기점	비용 부담 분기점
①	A → B	A → B
②	A → B	A → C
③	B → B	A → C
④	B → B	B → C
⑤	B → C	B → C

20. 다음 자료에 나타난 2009년도 경상 수지와 자본 수지에 대한 설명으로 옳은 것은? [3점]



2009년 수출이 감소했음에도 불구하고 상품 수지는 561.3억 달러, 소득 수지는 45.5억 달러의 흑자를 기록했다. 그러나 서비스 수지는 172억 달러의 적자를 나타냈다. 한편 외국인의 국내 주식 투자는 사상 최대를 기록했다.

- ① 2008년에 비해 국제 수지가 악화되었다.
- ② 무상 원조 등이 속하는 수지는 흑자였다.
- ③ 금료, 임금 등이 해당하는 수지는 적자였다.
- ④ 2008년에 비해 자본 수지 항목의 순 유출액이 늘었다.
- ⑤ 수입액 감소가 경상 수지 흑자에 가장 큰 영향을 끼쳤다.

* 확인 사항
○ 답안지의 해당란에 필요한 내용을 정확히 기입(표기)했는지 확인 하시오.